










	+	
1	+	1 = 2

maak de sommen.

	+	
1	+	1 = _____

		+	
2	+	1	= _____

		+		
2	+	2	= _____	

	+		
1	+	1	= _____

			+		
3	+	2	= _____		

teken het juiste aantal
stippen en maak de som.

	+	
4	+	1 = _____

	+	
1	+	3 = _____

	+	
1	+	4 = _____

	+	
2	+	2 = _____

	+	
2	+	3 = _____